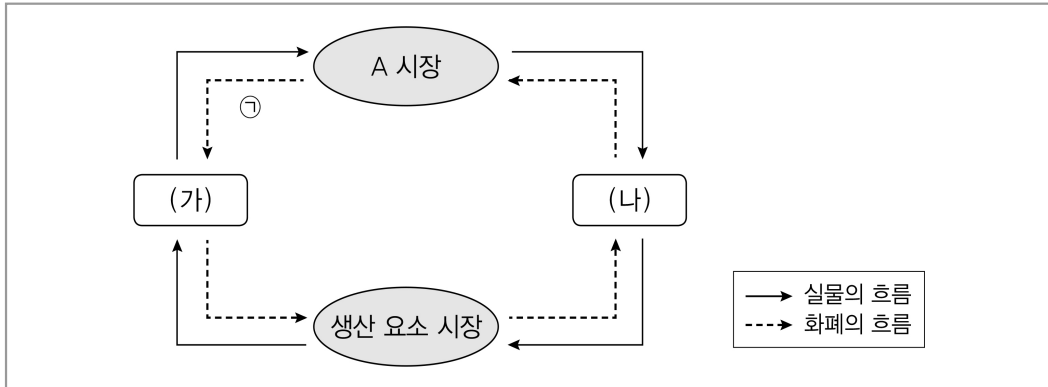


2017년 지방직 서울시 9급 시험 대비 사회 모의고사

출제 : 이병철 팀 | 박문각남부고시학원

01 그림은 민간 경제의 흐름을 나타낸 것이다. 이에 대한 설명으로 옳은 것은?



- ① 서비스는 A 시장에서 거래될 수 없다.
- ② 은행에서 예금 이자를 받는 것은 ㉠의 예이다.
- ③ (가)는 A 시장에서 수요자의 역할을 한다.
- ④ (나)는 효용의 극대화를 추구하는 경제 주체이다.

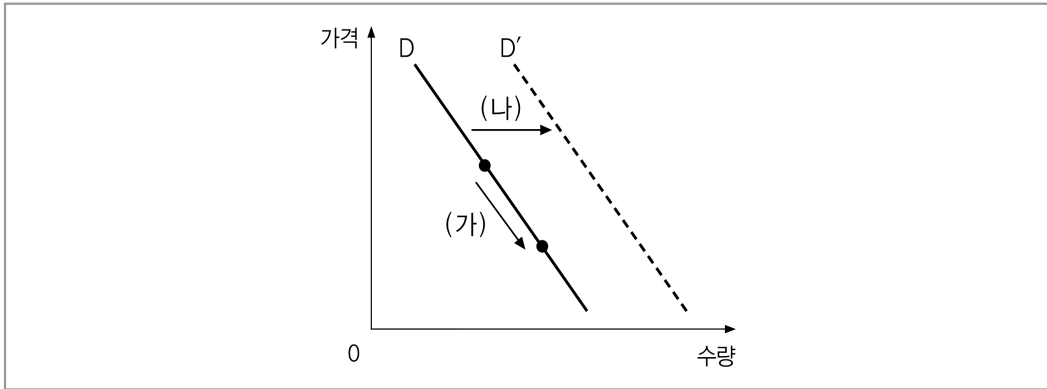
02 표는 갑 기업의 X재 생산량에 따른 이윤과 총수입을 나타낸다. 이에 대한 분석으로 옳은 것은? (단, 생산된 X재는 모두 판매된다.)

(단위 : 개, 만 원)

생산량	1	2	3	4	5
이윤	1	2	2	1	-1
총수입	5	10	15	20	25

- ① 생산량이 증가할수록 가격은 하락한다.
- ② 갑 기업의 합리적인 생산량은 5개이다.
- ③ 생산량이 2개일 때의 총비용은 8만 원이다.
- ④ 생산량이 증가할수록 X재 1개당 생산 비용은 감소한다.

03 그림은 X재의 수요량 또는 수요의 변동을 나타낸다. (가) 또는 (나)가 나타날 수 있는 요인에 대한 설명으로 옳은 것은?



- ① X재의 보완재인 Y재 가격의 하락은 (가)의 요인이 된다.
- ② X재 생산에 부과되는 세금의 증가는 (가)의 요인이 된다.
- ③ X재의 대체재인 Z재 가격의 상승은 (나)의 요인이 된다.
- ④ X재가 정상재이면 소비자들의 소득 감소는 (나)의 요인이 된다.

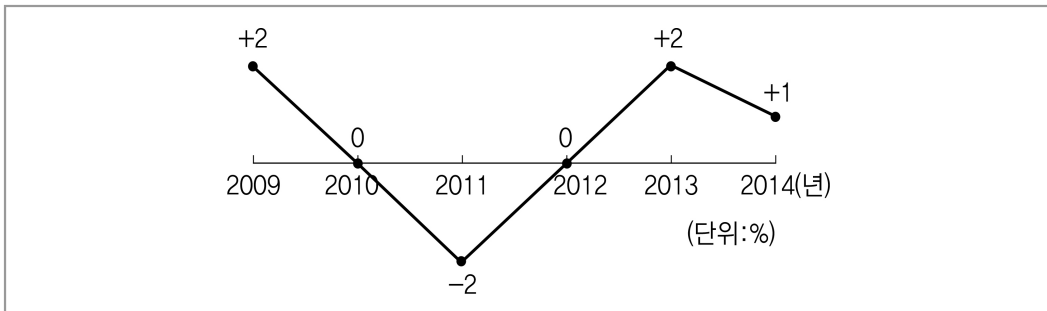
**04 다음의 대화에 대한 설명으로 적절하지 않은 것은?**

갑 : ㉠ 시장 실패 보완과 경제 질서 유지를 위해 정부가 시장에 개입하는 것은 불가피합니다.

을 : 아닙니다. 정부의 개입은 ㉡ 정부 실패를 초래할 뿐입니다. 민간 경제 주체의 자율적인 판단을 중시해야 합니다.

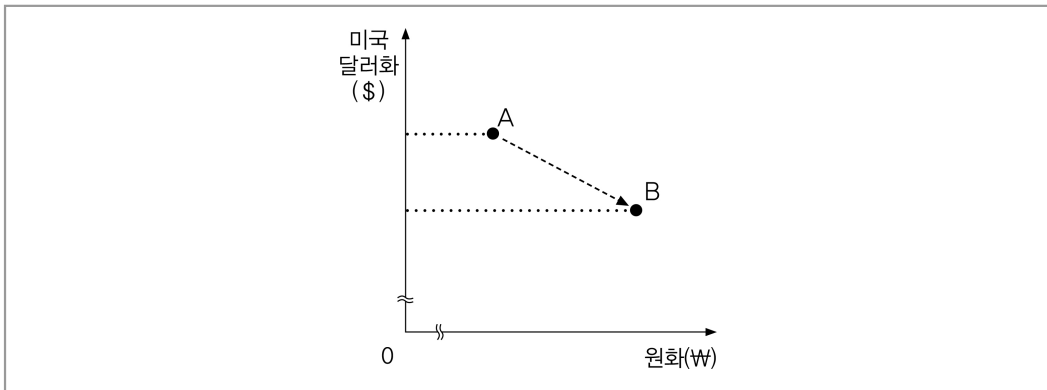
- ① ㉠의 사례로 공공재의 공급 부족을 들 수 있다.
- ② ㉡의 요인으로 시장에 대한 정부의 정보 부족을 들 수 있다.
- ③ ㉠과 달리 ㉡은 자원의 비효율적 배분을 초래한다.
- ④ 을이 지지할 정책으로 공기업의 민영화를 들 수 있다.

**05 그림은 A국의 전년 대비 수출액 증가율 추이를 나타낸 것이다. 이에 대한 분석으로 옳은 것은?**



- ① 2009년이 2013년보다 수출액이 더 크다.
- ② 2010년과 2012년의 수출액은 동일하다.
- ③ 2011년보다 2012년의 수출액은 더 크다.
- ④ 2013년에 비해 2014년의 수출액은 감소하였다.

06 그림의 A와 B는 서로 다른 시기에 외환 시장에서 시장 환율로 교환된 미국 달러화와 원화의 양을 나타낸다. A에서 B로 변한 경우에 대한 추론으로 옳지 않은 것은? (단, 환율 변화 이외의 다른 조건은 고려하지 않는다.)



- ① 미국 시장에서 한국 상품의 가격 경쟁력은 높아질 것이다.
- ② 한국을 여행하려는 미국인의 여행 경비 부담은 감소할 것이다.
- ③ 한국에서 달러화 예금을 원화로 환산한 자산 가치는 하락할 것이다.
- ④ 미국에서 유학 중인 자녀에게 송금해야 하는 한국 부모의 학비 부담은 증가할 것이다.

07 (가)~(라)는 한 연구 단계를 순서 없이 나열한 것이다. 이에 대한 설명으로 옳은 것은?

- (가) 수집된 자료를 통계 처리 프로그램을 활용하여 변수 간의 상관관계 분석
- (나) 청소년의 스마트폰 사용과 학업 성취도 간의 관계에 대한 연구 주제 선정
- (다) 스마트폰 사용 시간이 적은 청소년일수록 학업 성취도가 높을 것이라는 잠정적 결론 도출
- (라) A 지역 여자 고등학생 1,000명을 대상으로 설문 조사 실시 및 학업 성취도 평가 결과의 수집

- ① (가)에서는 연구자의 가치 개입이 허용된다.
- ② (나)에서는 비윤리적인 연구 주제를 선정하였다.
- ③ (다)에서의 가설은 변수 간 관계가 분명하게 설정되었다.
- ④ (라)에서의 표본 집단은 모집단에 대한 대표성을 갖는다.

08 자료는 사회·문화 현상의 연구 방법 A, B의 특징을 비교한 것이다. (가)~(다)에 들어갈 적절한 질문을 <보기>에서 골라 옳게 짝지은 것은?

A는 계량화된 자료를 통계 기법으로 정확하고 정밀하게 분석하고자 한다. B는 연구자의 직관적 통찰을 통해 행위 이면에 담긴 주관적 의미를 심층적으로 이해하고자 한다.

질문 \ 연구 방법	A	B
(가)	예	예
(나)	예	아니요
(다)	아니요	예

<보기>

- ㄱ. 경험적인 자료를 바탕으로 연구를 진행하는가?
- ㄴ. 변수에 대한 인위적인 조작과 통제를 반드시 실시하는가?
- ㄷ. 보편적 법칙의 발견을 통해 사회·문화 현상을 설명하고 예측하고자 하는가?
- ㄹ. 자연 과학의 연구 방법을 사회·문화 현상의 연구에 동일하게 적용하기 어렵다고 보는가?

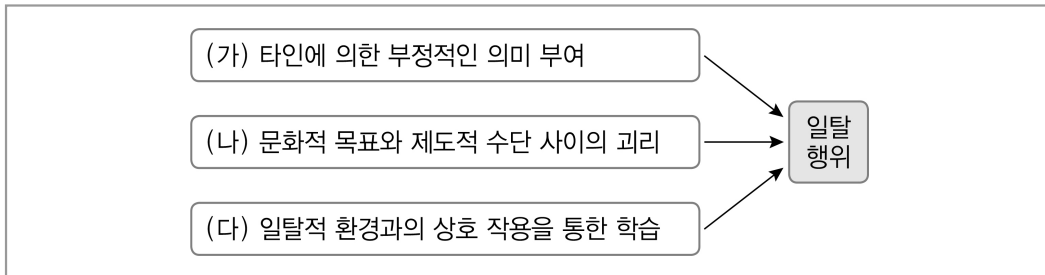
- |   | (가) | (나) | (다) |
|---|-----|-----|-----|
| ① | ㄱ   | ㄴ   | ㄹ   |
| ② | ㄱ   | ㄷ   | ㄹ   |
| ③ | ㄷ   | ㄴ   | ㄹ   |
| ④ | ㄷ   | ㄹ   | ㄱ   |

09 (가)~(다)에 나타난 문화 변동 요인에 대한 설명으로 가장 적절한 것은?

(가) 체로키 부족 사람인 세쿼야는 백인들과 접촉하면서 영어 알파벳에서 아이디어를 얻어 체로키 문자를 고안해 냈다.  
 (나) 고구려 소수림왕 때 중국에서 온 승려가 불상과 불경을 전해 주면서 우리나라에 불교가 전래되었다.  
 (다) 미국의 한 청년이 쉽게 찢어지는 광부의 작업복을 보완하기 위해 텐트용 천을 파란색으로 염색하여 잘 찢어지지 않는 새로운 작업복인 청바지를 만들었다.

- ① (가)는 내집단 의식이 약한 사회에서만 나타난다.
- ② (나)의 사례로 인간 유전자를 찾아낸 것을 들 수 있다.
- ③ (다)의 사례로 대중 매체를 통해 외국 문화가 소개되는 것을 들 수 있다.
- ④ (가), (다) 모두 새롭게 만들어진 문화 요소가 포함되어 있다.

10 (가)~(다)는 원인에 따라 일탈 이론을 분류하여 도식화한 것이다. 이에 대한 설명으로 옳은 것은?



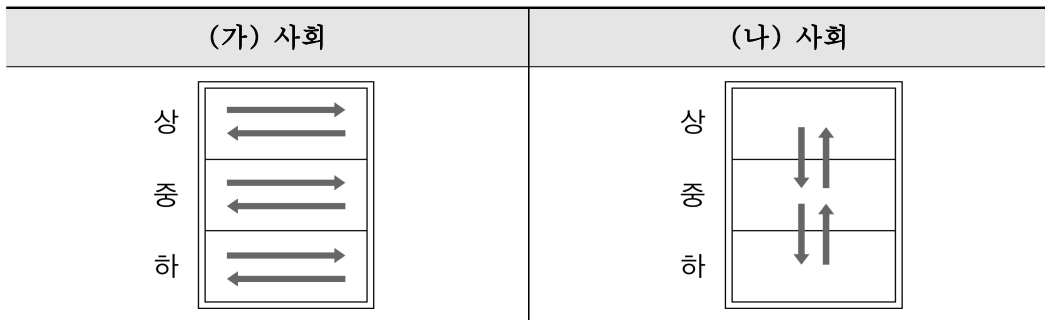
- ① (가)는 사회적으로 일탈자라고 규정하는 것이 반복적 일탈을 유발할 수 있다고 본다.
- ② (나)는 개인 행위에 대한 타인의 관점과 의식을 일탈 행위의 판단 기준으로 본다.
- ③ (다)는 급격한 사회 변동으로 인한 규범 붕괴를 일탈 행위 발생의 전제로 본다.
- ④ (나), (다)와 달리 (가)는 일탈자와의 교제를 통해 나타나는 일탈 행위를 설명하기에 적합하다.

11 밑줄 친 ㉠~㉣에 대한 설명으로 옳지 않은 것은?

1955년에 태어난 갑은 어려서부터 ㉠ 가족의 기대를 받으며 자랐다. 왜냐하면 갑이 ㉡ 또래 집단보다 수학과 과학에 뛰어난 재능을 보였기 때문이다. 갑은 중학교에 진학하면서부터 컴퓨터에 관심을 갖기 시작하였고, 1975년 ㉢ ○○○ 대학 재학 중에 ㉣ 회사를 세워 성공함으로써 ‘컴퓨터의 황제’로 불리게 되었다. 그의 성공 신화는 ㉤ 대중 매체를 통해 많은 사람들에게 소개되기도 하였다.

- ① ㉠은 공동 사회에 해당한다.
- ② ㉡은 1차적 사회화 기관, ㉢은 2차적 사회화 기관이다.
- ③ ㉣과 ㉤은 자발적으로 결성된 비공식 조직이다.
- ④ ㉥은 공식적 사회화 기관, ㉦은 비공식적 사회화 기관이다.

12 그림과 같은 계층 구조를 갖는 (가), (나) 사회에 대한 옳은 설명만을 <보기>에서 있는 대로 고른 것은?



<보기>

ㄱ. (가) 사회에서는 세대 내 수직 이동이나 세대 간 이동이 거의 불가능하다.

ㄴ. (나) 사회는 일반적으로 개인의 사회·경제적 지위가 가계의 상속과 계승으로 결정된다.

ㄷ. (가) 사회에 비해 (나) 사회에서 계층 내 사회 이동과 계층 간 사회 이동이 더 많이 발생한다.

ㄹ. (가) 사회와 달리 (나) 사회는 상위 계층으로 올라갈수록 계층 구성원의 비율이 낮아지는 형태의 계층 구조를 갖고 있다.

- ① ㄱ, ㄷ
- ② ㄱ, ㄹ
- ③ ㄴ, ㄹ
- ④ ㄷ, ㄹ

13 표의 (가)~(라)를 실현하기 위한 내용으로 옳지 않은 것은?

헌법의 기본 원리	관련 헌법 조항
(가)	대한민국은 민주 공화국이다.
(나)	정당의 목적이나 활동이 민주적 기본 질서에 위배될 때에는 ... <small>(중략)</small> ... 정당은 헌법 재판소의 심판에 의하여 해산된다.
(다)	모든 국민은 인간다운 생활을 할 권리를 가진다.
(라)	외국인은 국제법과 조약이 정하는 바에 의하여 그 지위가 보장된다.

- ① (가) - 만 19세 이상의 모든 국민에게 선거권을 부여하고 있다.
- ② (나) - 체포 또는 구속 시에는 영장을 제시하도록 하고 있다.
- ③ (다) - 개인 정보 보호법을 통해 개인의 사생활을 보호하고 있다.
- ④ (라) - 분쟁 지역에서 국제 평화 유지 활동에 참여하고 있다.

**14 국제 연합의 주요 기관 A, B에 대한 옳은 설명을 <보기>에서 고른 것은?**

- A는 5개의 상임 이사국과 10개의 비상임 이사국으로 구성되며, 국제 평화와 안전의 유지 또는 회복을 위해 활동하는 기관이다.
- B는 국적이 서로 다른 15명의 재판관으로 구성되며 국가 간의 분쟁을 법적으로 해결하는 사법 기관이다.

<보기>

ㄱ. A의 의결 과정에서 비상임 이사국은 거부권을 행사할 수 있다.

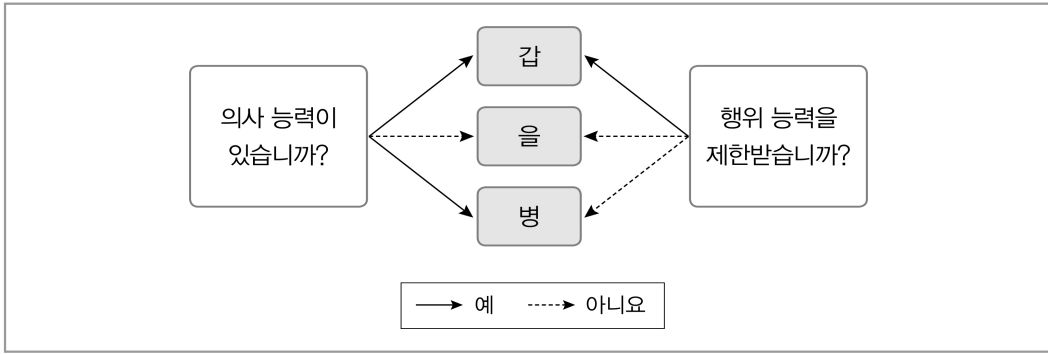
ㄴ. A는 국제 평화를 위해 군사적 제재 조치를 취할 수 있다.

ㄷ. B는 일반적으로 당사국 일방의 신청으로 재판이 시작된다.

ㄹ. B는 재판 시 조약, 국제 관습법, 법의 일반 원칙 등을 적용한다.

- ① ㄱ, ㄴ
- ② ㄴ, ㄷ
- ③ ㄴ, ㄹ
- ④ ㄷ, ㄹ

**15 그림은 민법상의 능력을 기준으로 갑~병을 구분한 것이다. 이에 대한 옳은 설명을 <보기>에서 고른 것은?**

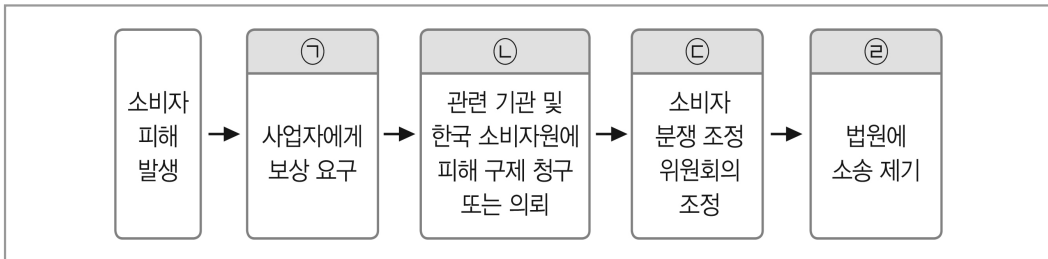


<보기>

ㄱ. 갑의 법률 행위는 가정 법원이 정한 범위 내에서만 인정된다.  
 ㄴ. 미성년자가 부모의 동의를 얻어 법률혼을 한 경우 병과 동일한 민법상 지위를 갖게 된다.  
 ㄷ. 을이 체결한 계약은 원칙적으로 무효이다.  
 ㄹ. 병과 달리 갑, 을은 권리와 의무의 주체가 될 수 없다.

- ① ㄱ, ㄴ                      ② ㄴ, ㄷ                      ③ ㄴ, ㄹ                      ④ ㄷ, ㄹ

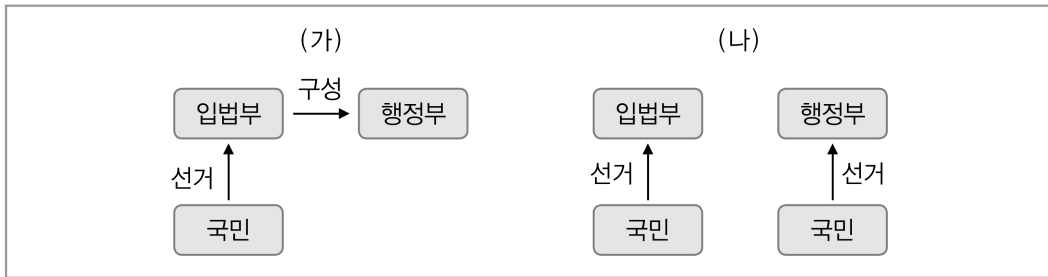
16 그림은 소비자 피해 구제 절차를 나타낸 것이다. ㉠~㉡에 대한 설명으로 옳지 않은 것은?



- ① 소비자가 불리한 내용을 미리 고지 받았더라도 ㉠을 할 수 있다.  
 ② 국가나 지방 자치 단체도 ㉡의 주체가 될 수 있다.  
 ③ ㉢이 결정되면 당사자들은 이에 대한 수락 여부를 결정할 수 있다.  
 ④ ㉣의 소송이 제기되면 행정 법원에서 담당한다.

17 (가), (나)는 각각 전형적인 정부 형태이다. 이에 대한 설명으로 옳은 것은?





- ① (가)에서는 국가 원수와 행정 수반의 역할이 1인에게 집중되어 있다.
- ② (가)에서 행정 수반의 임기는 엄격하게 보장된다.
- ③ (나)에서 행정 수반은 입법부에 대한 견제 장치로 법률안 거부권을 갖는다.
- ④ (나)에서 입법부와 행정부가 대립할 때 행정 수반은 입법부를 해산할 수 있다.

**18 다음 사례에 대한 법적 판단으로 옳지 않은 것은?**

갑은 을과 혼인한 지 1년이 지나서 아들 A를 낳았다. 이후 아이가 더 생기지 않자, 친구 병의 딸 B를 적법한 절차를 거쳐 양자로 입양하였다. 이후 갑은 을의 방탕한 생활을 견디다 못해 을과 심하게 다투었고, 결국 미성년 아들 A는 갑이, 미성년 딸 B는 을이 양육하기로 하고, 두 사람은 이혼에 합의하였다.

- ① 병이 사망할 경우 B는 법적 상속인이 된다.
- ② 이혼 후 갑은 B를 만날 수 있는 면접 교섭권을 가진다.
- ③ 갑과 을의 이혼은 법원의 이혼 확인 시에 효력이 발생한다.
- ④ 이혼 시 을은 갑에 대해 공유 재산 분할을 청구할 수 있다.

**19 다음은 근대 사회 계약론자 갑, 을의 주장이다. 이에 대한 설명을 옳은 것은?**

갑 : 자연 상태에서 인간은 타인에 의해 발생한 권리 침해로 인해 분쟁을 겪고, 이를 해결하기 위해 정부를 구성한다. 그러나 정부가 인민의 위엄을 저버리면 인민들은 새로운 정부를 구성할 수 있다.

을 : 공동체에는 모두의 안녕과 복지를 도모하는 일반 의지가 존재하며, 시민은 자유와 평등을 제도적으로 보장받기 위하여 일반 의지로써 정치 공동체를 구성한다. 그리고 양도하거나 나눌 수 없는 주권을 행사한다.

- ① 갑은 주권의 존재를 부정하였다.
- ② 을은 권리 보호를 위해 입법권과 집행권의 권력 분립을 강조하였다.
- ③ 갑은 을과 달리 자연 상태를 약육강식의 투쟁 상태로 보았다.
- ④ 갑과 을은 모두 정부를 목적이 아니라 수단으로 보았다.

20 (가)~(라) 시기의 우리나라 외교 정책에 대한 설명으로 옳지 않은 것은?

	(가)	(나)	(다)	(라)		
	1950	1960	1970	1980	1990	2000

(연도)

- ① (가) 시기에는 냉전 시대의 반공 이념이 강조되었다.
- ② (나) 시기의 외교는 제3세계보다는 서방권 국가에 치중되어 있었다.
- ③ (다) 시기에는 6·23 선언으로 공산권 국가에게도 문호 개방을 천명하였다.
- ④ (라) 시기에는 남북한 간 최고 정상회담이 두 차례 만나 통일 문제를 논의하였다.

[정답 및 해설]

1. 정답 ④

해설 [경제] 민간 경제의 순환

그림에서 A 시장은 생산물 시장에 해당한다. 생산물 시장에 실물을 공급하는 (가)는 기업, 생산 요소 시장에 실물을 공급하는 (나)는 가계이다.

- ① 재화와 서비스는 생산물 시장(A)에서 거래된다.
- ② 은행의 예금 이자는 생산 요소 시장에서 생산 요소를 제공하고 받는 대가이다. ㉠은 생산물 시장에서 기업으로의 화폐 흐름으로 판매 수입에 해당한다.
- ③ (가)는 생산물 시장(A)의 공급자이다. 생산물 시장(A)의 수요자는 (나) 가계이다.
- ④ (나)는 가계이므로 효용의 극대화를 추구한다.

2. 정답 ③

해설 [경제] 기업의 합리적 생산

평균 수입은 '총수입 ÷ 생산량', 평균 비용은 '총비용 ÷ 생산량', 총수입은 '평균 수입 × 생산량', 총비용은 '평균 비용 × 생산량', 이윤은 '총수입 - 총비용'으로 구할 수 있다. 각 생산량별 총수입, 총비용, 이윤, 평균 수입, 평균 비용을 계산하면 아래 <표>와 같다.

생산량(개)	1	2	3	4	5
총수입(만 원)	5	10	15	20	25
평균 수입(만 원)	5	5	5	5	5
총비용(만 원)	4	8	13	19	26
평균 비용(만 원)	4	4	약 4.3	4.75	5.2
이윤(만 원)	1	2	2	1	-1

- ① 생산량이 증가함에 따라 총수입이 5, 10, 15, 20, 25만 원으로 증가하므로 평균 수입은 5만 원으로 일정하다. 즉, X재의 시장 가격은 5만 원으로 일정하다.
- ② 기업의 합리적 생산 수준은 이윤이 최대가 될 때이다. 따라서 갑 기업의 합리적인 생산량은 2개 또는 3개이다.
- ③ 생산량이 2개일 때의 총비용은 총수입(10만 원)에서 이윤(2만 원)을 뺀 8만 원이다.
- ④ X재 1개당 생산 비용은 평균 비용으로 총비용을 생산량으로 나눈 값이다. 그 값은 생산량 수준에 따라 각각 4, 4, 약 4.3, 4.75, 5.2만 원으로 생산량이 증가할수록 증가한다.

3. **정답** ③

**해설** [경제] 시장 변동의 요인

- (가)는 가격 하락으로 수요량이 변동한 경우이다. 가격 하락은 공급 증가의 결과이다.  
 (나)는 수요 곡선 자체의 우측 이동으로 수요 증가를 의미한다.
- ① X재의 보완재인 Y재 가격이 하락하면 X재 수요가 증가한다.
  - ② X재 생산에 부과되는 세금이 증가하면 X재 공급은 감소한다.
  - ③ X재의 대체재인 Z재 가격이 상승하면 X재 수요가 증가한다.
  - ④ X재가 정상재이면 소비자들의 소득이 감소하면 X재 수요는 감소한다.

4. **정답** ③

**해설** [경제] 시장 실패와 정부 실패

- 갑은 개입주의, 을은 비개입주의를 주장한다.
- ① 공공재의 공급 부족은 시장 실패의 사례이다.
  - ② 정부의 정보 부족은 정부 실패의 요인이다.
  - ③ 시장 실패와 정부 실패 모두 자원의 비효율적 배분을 초래한다.
  - ④ 공기업의 민영화는 정부 개입보다는 시장 기능을 중시하는 정책이다.

5. **정답** ①

**해설** [경제] 증가율 그래프의 분석

- ① 수출액이 2% 감소했다가 2% 증가했다면 2%의 감소 규모가 2%의 증가 규모보다 더 크다. 따라서 2013년보다 2009년의 수출액이 더 크다.
- ② 2010년과 2012년의 수출액 증가율은 0%로 동일하다. 하지만 수출액은 2012년보다 2010년이 더 크다.
- ③ 2012년의 수출액 증가율이 0%이므로 2011년과 2012년의 수출액은 동일하다.
- ④ 2014년의 수출액 증가율이 양수(+)이므로 2013년에 비해 2014년의 수출액은 증가하였다. 수출액 증가율이 낮아졌다고 해서 수출액 자체가 감소했다고 판단해서는

안 된다.

6. **정답** ③

**해설** [경제] 환율 변동의 이해

A 시기와 비교할 때 B 시기에는 교환된 달러의 양은 감소했으나 원화의 양은 증가했다. 따라서 원/달러 환율은 상승했다.

- ① 환율이 상승하면 한국 상품의 달러화 표시 가격이 하락하여 미국 시장에서 한국 상품의 가격 경쟁력은 높아진다.
- ② 환율이 상승하면 1달러와 교환되는 원화가 증가하므로 한국을 여행하려는 미국인의 여행 경비 부담은 감소한다.
- ③ 환율이 상승하면 1달러와 교환되는 원화가 증가하므로 달러화 예금을 원화로 환산한 자산 가치는 상승한다.
- ④ 환율이 상승하면 자녀 유학비를 원화로 환산한 금액이 증가하므로 한국 부모의 학비 부담은 증가한다.

7. **정답** ③

**해설** [사회문화] 양적 연구의 설계 및 수행

(가)는 자료 분석, (나)는 연구 주제의 선정, (다)는 가설 설정, (라)는 자료 수집 단계에 해당한다.

- ① (가)에서는 가치 중립이 요구된다.
- ② 스마트폰 사용과 학업 성취도 간의 상관관계에 대한 연구는 비윤리적이지 않다.
- ③ 스마트폰 사용 시간이 독립 변수, 학업 성취도가 종속 변수로 변수 간의 관계가 분명하다.
- ④ A 지역 여자 고등학생 1,000명은 전체 청소년에 대한 대표성을 갖지 못한다.

8. **정답** ②

**해설** [사회문화] 사회·문화 현상의 연구 방법

A는 양적 연구 방법, B는 질적 연구 방법이다.

- ㄱ. 양적 연구 방법과 질적 연구 방법의 공통점이므로 (가)에 들어갈 수 있다.
- ㄴ. 양적 연구에서는 변인 간의 인과 관계를 발견하기 위해서 변수들을 통제하는 경우가 많지만 연구의 성격에 따라서 반드시 변수를 통제하는 것은 아니다.
- ㄷ. 양적 연구 방법의 목적이므로 (나)에 들어갈 수 있다.
- ㄹ. 질적 연구 방법의 특징으로 (다)에 들어갈 수 있다.  
따라서 (가)에는 ㄱ, (나)에는 ㄷ, (다)에는 ㄹ이 적절한 질문에 해당한다..

9. **정답** ④

**해설** [사회문화] 문화 변동

(가)는 외래문화의 전파가 발명을 자극하여 나타난 자극 전파의 사례이다. (나)는 인적 교류에 의해 나타난 직접 전파의 사례이다. (다)는 기존의 문화 요소를 응용하여 새로운 문화 요소를 만들어 내는 2차적 발명의 사례이다.

- ① 자극 전파는 내집단 의식이 강한 사회에서도 나타난다.
- ② 인간 유전자를 찾아낸 것은 발견의 사례이다.
- ③ 대중 매체를 통해 외국 문화가 소개되는 것은 간접 전파에 해당하는 사례이다.
- ④ (가), (다) 요인은 모두 발명이 포함되어 있다.

10. **정답** ①

**해설** [사회문화] 일탈 행동

(가)는 낙인 이론, (나)는 머튼의 아노미 이론, (다)는 차별적 교제 이론이다.

- ① (가) 낙인 이론에서는 사회적 낙인이 반복적 일탈을 유발할 수 있다고 본다.
- ② (나) 아노미 이론은 개인의 행위에 대한 타인의 관점과 의식을 판단 기준으로 하지 않는다.
- ③ 급격한 사회 변동으로 인한 규범의 붕괴는 (나) 아노미 이론에 해당한다.
- ④ 일탈자와의 교제를 통해 나타나는 일탈 행위를 설명하는 것은 (다) 차별적 교제 이론이다.

11. **정답** ③

**해설** [사회문화] 사회화 기관 및 사회 조직

- ① 가족(㉠)은 인간의 본질적인 의지에 따라 자연적으로 형성된 공동 사회이다.
- ② 또래 집단(㉡)은 1차적 사회화 기관이며, 회사(㉢)는 2차적 사회화 기관에 해당한다.
- ③ 대학교(㉣)와 회사(㉢)는 공식 조직의 예에 해당한다.
- ④ 대학교(㉣)는 사회화를 목적으로 설립된 공식적 사회화 기관이다. 대중 매체(㉤)는 사회화 이외의 목적으로 설립되었으나 부수적으로 사회화를 수행하는 비공식적 사회화 기관이다.

12. **정답** ①

**해설** [사회문화] 계층 구조

(가) 사회는 폐쇄적 계층 구조의 사회이고, (나) 사회는 개방적 계층 구조의 사회이다.

- ㄱ. 수평 이동만 가능한 폐쇄적 계층 구조인 사회에서는 계층 간 상승 이동과 하강 이동이 불가능하기 때문에 세대 내 수직 이동과 세대 간 사회 이동이 사회 제도를 통해 엄격하게 제한된다.
- ㄴ. (나) 개방적 계층 구조인 사회에서도 개인의 사회-경제적 지위가 가계의 상속과

계승으로 결정되는 경우가 종종 발생한다. 그러나 일반적으로 개방적 계층 구조에서는 개인의 노력과 업적으로 개인의 사회·경제적 지위가 결정된다.

- ㄷ. 폐쇄적 계층 구조는 주로 전통적인 농경 사회의 신분제 사회에서 나타나고 개방적 계층 구조는 산업 사회에서 주로 나타난다. 따라서 (가) 폐쇄적 계층 구조인 사회에 비해 (나) 개방적 계층 구조인 사회에서 사회 이동이 더 활발하게 일어난다.
- ㄹ. 상위 계층으로 올라갈수록 계층 구성원의 비율이 낮아지는 형태의 계층 구조는 피라미드형 계층 구조이다. 피라미드형 계층 구조는 (가) 폐쇄적 계층 구조의 사회와 (나) 개방적 계층 구조의 사회 모두에서 나타날 수 있고, (가) 폐쇄적 계층 구조의 사회에서 주로 많이 나타난다고 볼 수 있다.

13. **정답** ③

**해설** [법과정치] 헌법의 기본 원리

(가)는 국민 주권주의, (나)는 자유 민주주의, (다)는 복지 국가의 원리, (라)는 국제 평화주의이다.

- ① (가) 국민 주권주의를 실현하기 위한 내용이다.
- ② (나) 자유 민주주의를 실현하기 위한 내용이다.
- ③ 개인 정보 보호법을 통해 개인의 사생활을 보호하는 것은 (나) 자유 민주주의를 실현하기 위한 내용이다.
- ④ (라) 국제 평화주의를 실현하기 위한 내용이다.

14. **정답** ③

**해설** [법과정치] 국제 연합

국제 연합에서 국제 평화와 안전을 위해 활동하는 기관은 안전 보장 이사회이고, 국가 간의 분쟁을 사법적으로 해결하는 기관은 국제 사법 재판소이다. 따라서 A는 안전 보장 이사회, B는 국제 사법 재판소이다.

- ㄱ. 거부권을 행사할 수 있는 것은 상임 이사국이다.
- ㄴ. 안전 보장 이사회(A)는 군사적 제재 조치를 취할 수 있다.
- ㄷ. 국제 사법 재판소(B)는 일반적으로 분쟁 당사국의 합의가 있어야 재판이 개시된다.
- ㄹ. 국제법의 법원은 조약, 국제 관습법, 법의 일반 원칙, 관련 학설과 판례 등이 있다.

15. **정답** ②

**해설** [법과정치] 민법상 능력

- ㄱ. 같은 미성년자, 피성년 후견인, 피한정 후견인 중 하나가 될 수 있다. 미성년자의 법률 행위는 가정 법원이 정하는 것이 아니다.

- ㄴ. 미성년자가 혼인을 하면 성년 의제가 되어 민법상 성인과 동일한 지위를 갖게 된다.
- ㄷ. 을은 의사 무능력자로 을이 체결한 계약은 원칙적으로 무효이다.
- ㄹ. 사람은 태어나면서부터 권리와 의무의 주체가 된다.

16. **정답** ④

**해설** [법과정치] 소비자의 피해 구제 절차

- ① 소비자가 불리한 내용을 미리 고지 받았더라도 소비자에게 피해가 발생하면 사업자에게 보상을 요구(㉠)할 수 있다.
- ② 소비자는 국가 및 지방 자치 단체에 설치된 소비자 피해 구제 기구를 통해 그 피해 구제를 받을 수 있다.
- ③ 당사자는 결정을 통지받은 날로부터 15일 이내에 수락 여부를 통지하여야 하며, 성립된 조정 결정 내용은 재판상 화해와 동일한 효력을 가지게 된다.
- ④ 소비자 분쟁 조정 위원회의 조정 내용이 불만족스러운 경우에는 민사 소송을 제기할 수 있다.

17. **정답** ③

**해설** [법과정치] 대통령제와 의원 내각제

- (가)는 의원 내각제, (나)는 대통령제 정부 형태이다.
- ① 국가 원수와 행정 수반의 역할이 1인에게 집중되어 있는 정부 형태는 (나) 대통령제이다.
  - ② (가) 의원 내각제는 (나) 대통령제와 달리 행정부 수반의 임기가 엄격하게 보장되지 않는다.
  - ③ (나) 대통령제는 견제와 균형의 원리에 충실한 형태인데, 행정부 수반의 법률안 거부권은 행정부가 입법부를 견제하는 대표적인 장치이다.
  - ④ 행정부 수반의 의회 해산권은 (나) 대통령제에서는 없고, (가) 의원 내각제에서만 있다.

18. **정답** ③

**해설** [법과정치] 이혼

- ① 양자가 되어도 친부모와의 법적 관계는 그대로 유지된다. 따라서 친부모인 병의 사망으로 인해 B는 상속권을 가진다.
- ② 이혼 후에는 미성년 자녀를 양육하지 않는 부 또는 모는 자녀를 만날 수 있는 면접 교섭권을 가진다.
- ③ 갑과 을은 이혼에 합의했으므로 협의 이혼 절차를 거치면 된다. 갑과 을은 우선 법원에 이혼 신청서를 제출하고, 3개월의 이혼 숙려 기간을 거친 다음 법원의 이

혼 확인서를 받아 행정 관청에 이혼 신고서와 함께 제출해야 한다. 이혼의 효력은 행정 관청에 의해 이혼 신고서가 접수된 때에 발생한다.

- ④ 재산 분할 청구권은 부부 공유 재산에 대한 청산의 의미가 있기 때문에 이혼의 책임이 누구에게 있든 상관없이 인정된다.

19. **정답** ④

**해설** [법과정치] 사회 계약론

갑은 로크이고, 을은 루소이다.

- ① 사회 계약론자들은 주권의 존재를 인정하였으며, 로크와 루소는 국민 주권론자이다.
- ② 입법권과 집행권의 분리, 즉 2권 분립을 주장한 것은 로크이다.
- ③ 자연 상태를 약육강식의 투쟁 상태로 본 사회 계약론자는 홉스이다.
- ④ 사회 계약론자들은 모두 정부를 그 자체가 목적이라기보다 인민의 자연권 보전을 위한 수단으로 보았다.

20. **정답** ④

**해설** [법과정치] 우리나라의 외교 정책

우리나라의 외교 정책은 냉전 시대 미국 중심의 외교로부터 1970년대 이후 6·23 선언을 계기로 공산권 국가들과 공존과 개방을 본격적으로 시작하였으며, 탈냉전 시대인 1980년대 후반부터 북방 외교로 이어지는 정책의 변화를 겪었다.

- ① 1960년대까지는 냉전 시대의 반공 이념을 기본으로 미국 중심의 외교 정책을 펼쳤다.
- ② 1960년대에도 제3세계보다는 여전히 미국 등 서방권 국가 중심의 외교를 전개하였다.
- ③ 1970년대에는 닉슨 독트린 등으로 긴장 완화와 실리 추구의 국제 정세 변화가 나타났고, 우리나라도 6·23 선언을 통해 공산권에 대한 문호 개방을 천명하였다.
- ④ 남북한 간 정상 회담이 성사된 것은 2000년대의 일이다.